

PROVES D'ACCÉS A LA UNIVERSITAT

PRUEBAS DE ACCESO A LA UNIVERSIDAD

CONVOCATÒRIA: JUNY 2011	CONVOCATORIA: JUNIO 2011
GEOGRAFIA	GEOGRAFÍA

**BAREM DE L'EXAMEN:**

**Pregunta 1<sup>a</sup>-2,5 punts; pregunta 2<sup>a</sup>-2,5 punts; pregunta 3<sup>a</sup>-2,5 punts; pregunta 4<sup>a</sup>-2,5 punts**

**BAREMO DEL EXAMEN:**

*Pregunta 1<sup>a</sup>-2,5 puntos; pregunta 2<sup>a</sup>-2,5 puntos; pregunta 3<sup>a</sup>-2,5 puntos; pregunta 4<sup>a</sup>-2,5 puntos*

**EJERCICIO 1**

1. Con los datos del Documento 1 y sobre las gráficas anexas, complete los climogramas, con todos sus elementos, siguiendo el modelo de Gausson.
2. Analice los climogramas realizados y señale sus características principales. Defina a qué clima corresponde cada uno de ellos.
3. ¿Qué paisajes vegetales se corresponden con cada uno de los climogramas realizados? Explique sus características y algunas de sus especies principales.
4. Con el apoyo del mapa en el Documento 2 y de sus respuestas anteriores, señale los contrastes espaciales para el riesgo de erosión y desertificación y establezca las causas geográficas de esos contrastes.

**EXERCICI 1**

1. Amb les dades del Document 1 i sobre els gràfics annexos completeu els climogrames, amb tots els seus elements, seguint el model de Gausson.
2. Analitzeu els climogrames realitzats i assenyaleu les seues característiques principals. Definiu a quin clima correspon cada un d'ells.
3. Quins paisatges vegetals es corresponen amb cada un dels climogrames realitzats? Expliqueu les seues característiques i algunes de les seues espècies principals.
4. Amb el suport del mapa en el Document 2 i de les vostres respostes anteriors, assenyaleu els contrastos espacials per al risc d'erosió i desertificació i establiu les causes geogràfiques d'aquests contrastos.

## DOCUMENT 1 / DOCUMENTO 1

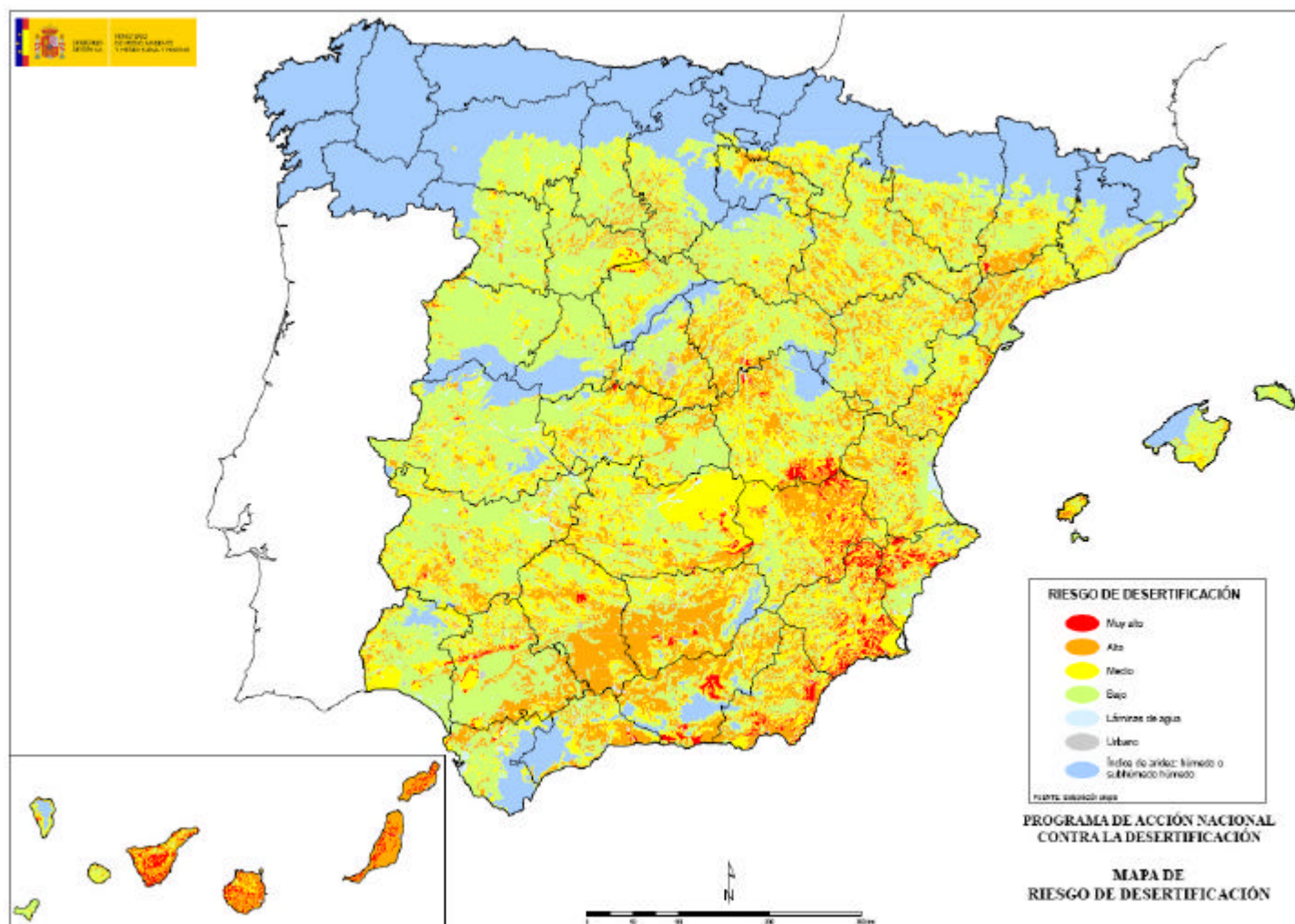
DADES CLIMÀTIQUES, 1961-1990 / DATOS CLIMÁTICOS, 1961-1990

		Ene	Feb	Mar	Abr	May	Jun	Jul	Ago	Sep	Oct	Nov	Dic	Año
CLIMA A	T°C	10,6	11,1	13,1	14,9	17,8	21,6	24,3	24,7	22,8	18,5	14,5	11,6	17,1
	P (mm)	26,0	25,0	30,0	33,0	43,0	29,0	14,0	18,0	61,0	59,0	46,0	42,0	426,0
CLIMA B	T°C	8,6	8,7	11,6	12,1	14,6	17,6	19,5	19,7	18,4	15,9	11,8	9,4	14,0
	P (mm)	140,0	98,0	82,0	85,0	84,0	78,0	47,0	63,0	131,0	142,0	125,0	170,0	1245,0

Font/Fuente: AEMET.

## DOCUMENT 2 / DOCUMENTO 2

MAPA DE RISC DE DESERTIFICACIÓ / MAPA DE RIESGO DE DESERTIFICACIÓN



Font/Fuente: Programa de Acción Nacional contra la Desertificación, Ministerio de Medio Ambiente y Medio Rural y Marino.

**BAREM DE L'EXAMEN:**

**Pregunta 1ª-2,5 punts; pregunta 2ª-2,5 punts; pregunta 3ª-2,5 punts; pregunta 4ª-2,5 punts**

**BAREMO DEL EXAMEN:**

*Pregunta 1ª-2,5 puntos; pregunta 2ª-2,5 puntos; pregunta 3ª-2,5 puntos; pregunta 4ª-2,5 puntos*

**EJERCICIO 2**

1. Con los datos del Documento 1, realice un mapa de coropletas.
2. De acuerdo con el mapa elaborado, analice la desigual distribución del turismo exterior en nuestro territorio e indique los principales factores que la explican.
3. En el Documento 2 se indica la distribución por comunidades autónomas de los viajeros residentes en España alojados en hoteles. Explique las diferencias respecto al turismo extranjero.
4. Explique las principales repercusiones económicas, socioculturales y ambientales del turismo en España.

**EXERCICI 2**

1. Amb les dades del Document 1, realitzeu un mapa de coropletes.
2. D'acord amb el mapa elaborat, analitzeu la desigual distribució del turisme exterior al nostre territori i indiqueu els principals factors que l'expliquen.
3. En el Document 2 s'indica la distribució per comunitats autònomes dels viatgers residents a Espanya allotjats en hotels. Expliqueu les diferències respecte del turisme estranger.
4. Expliqueu les principals repercussions econòmiques, socioculturals i ambientals del turisme a Espanya.

**DOCUMENT 1 / DOCUMENTO 1**

Percentatge de turistes que arriben de l'estranger per comunitats autònomes (2009)

Porcentaje de turistas llegados del extranjero por Comunidades Autónomas (2009)

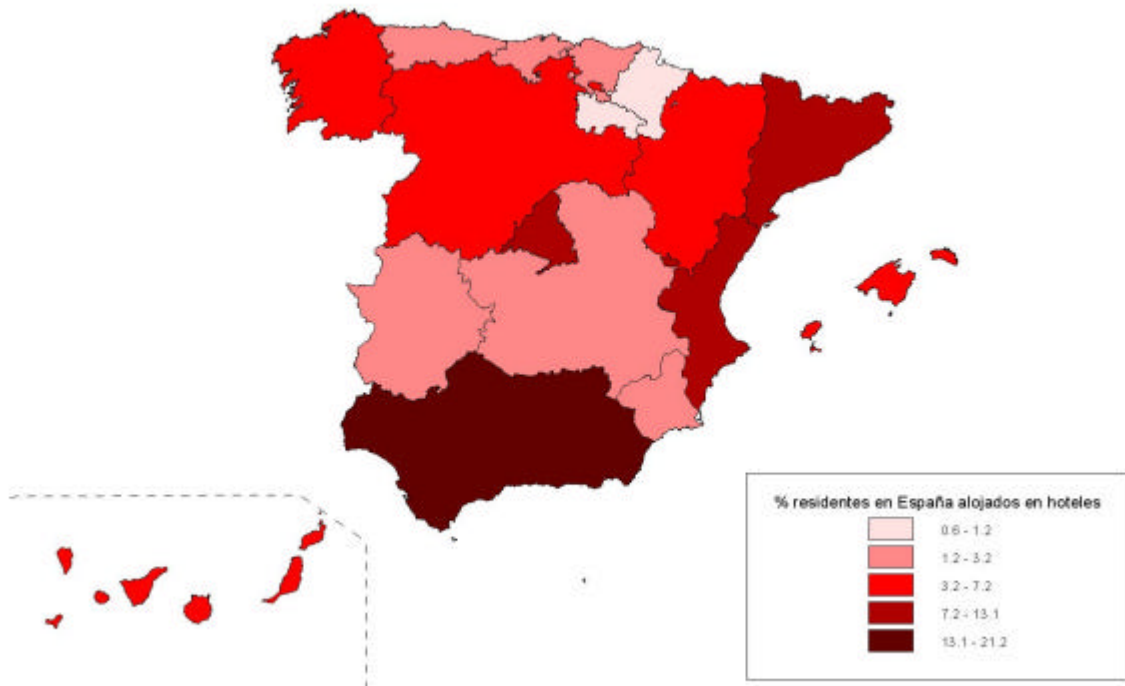
Comunidades Autónomas	Porcentaje
Andalucía	14,1
Aragón	0,7
Asturias	0,3
Baleares	17,3
Canarias	15,7
Cantabria	0,6
Castilla y León	1,9
Castilla La Mancha	0,4
Cataluña	24,4
Com.Valenciana	9,8
Extremadura	0,4
Galicia	1,5
Madrid	9,4
Murcia	1,6
Navarra	0,4
País Vasco	1,5
Rioja, La	0,1
<b>España</b>	<b>100,0</b>

Font/Fuente: Instituto de Estudios Turísticos (IET). Ministerio de Industria, Turismo y Comercio

**DOCUMENT 2 / DOCUMENTO 2**

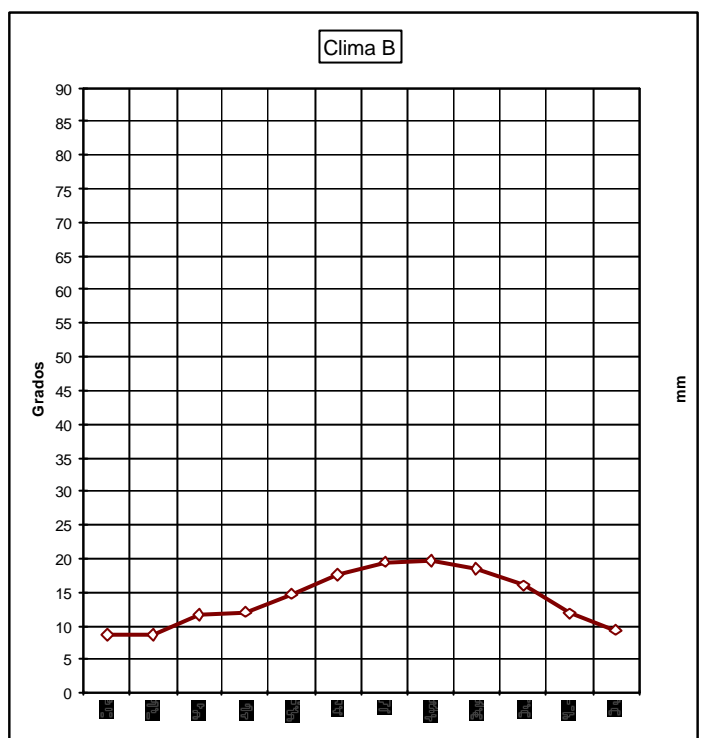
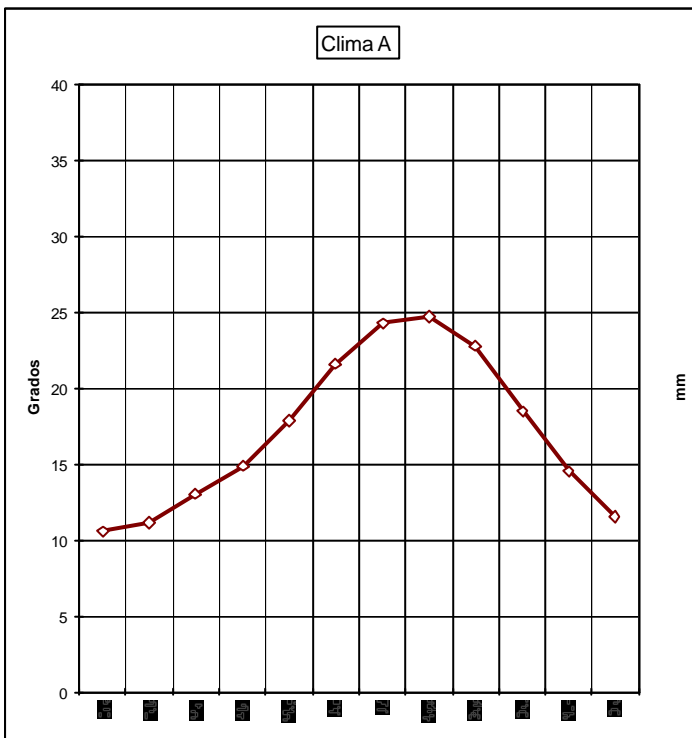
Distribució percentual per comunitats autònomes dels viatges de residents a Espanya allotjats en hotels (2009)  
*Distribución porcentual por comunidades autónomas de los viajes de residentes en España alojados en hoteles (2009)*

Porcentaje de residentes en España alojados en hoteles por CC.AA. (2009)



Font/Fuente: Instituto de Estudios Turísticos (IET).  
Ministerio de Industria, Turismo y Comercio

**PAPER ANNEX/ PAPEL ANEXO**



**PAPER ANNEX / PAPEL ANEXO**

