

PROVES D'ACCÉS A FACULTATS, ESCOLES TÈCNiques SUPERIORS I COL·LEGIS UNIVERSITARIS
PRUEBAS DE ACCESO A FACULTADES, ESCUELAS TÉCNICAS SUPERIORES Y COLEGIOS UNIVERSITARIOS
CONVOCATÒRIA DE SETEMBRE 2007
CONVOCATORIA DE SEPTIEMBRE 2007
MODALITAT DEL BATXILLERAT (LOGSE): d'Humanitats i Ciències Socials
MODALIDAD DEL BACHILLERATO (LOGSE): de Humanidades y Ciencias Sociales
IMPORTANT / IMPORTANTE

2n Exercici 2º Ejercicio	GEOGRAFIA GEOGRAFÍA	Obligatòria en la via de Ciències Socials i optativa en la d'Humanitats Obligatoria en la vía de Ciencias Sociales y optativa en la de Humanidades	90 minuts 90 minutos
Barem: / Baremo: _____			
Pregunta 1ª-2'5 punts; pregunta 2ª-2'5 punts; pregunta 3ª-2'5 punts; pregunta 4ª-2'5 punts			
<i>Pregunta 1ª-2'5 puntos; pregunta 2ª-2'5 puntos; pregunta 3ª-2'5 puntos; pregunta 4ª-2'5 puntos</i>			

EJERCICIO 1

1. Explique la estructura de la población española y extranjera por edades basándose en la figura mostrada en el documento 1.
2. Analice el gráfico del documento 2 y razone cuáles son los principales motivos que explican la evolución de la inmigración en España en el periodo 1996-2006.
3. Observe el mapa de documento 3 que representa la distribución provincial de los inmigrantes en España en 2006. ¿Cuáles son las causas que condicionan la desigual distribución espacial de los inmigrantes? ¿Se trata del mismo tipo de inmigración en unas zonas geográficas que en otras? Razone sus respuestas.
4. Con las conclusiones que haya obtenido de las cuestiones anteriores, redacte un **INFORME sobre las repercusiones socioculturales, económicas y demográficas de la inmigración en España.**

EXERCICI 1

1. Expliqueu l'estructura de la població espanyola i estrangera per edats basant-vos en la figura mostrada en el document 1.
2. Analitzeu el gràfic del document 2 i raoneu quins són els principals motius que expliquen l'evolució de la immigració a Espanya en el període 1996-2006.
3. Observeu el mapa de document 3 que representa la distribució provincial dels immigrants a Espanya el 2006. Quines són les causes que condicionen la desigual distribució espacial dels immigrants? Es tracta del mateix tipus d'immigració d'unes zones geogràfiques a altres? Raoneu les respostes.
4. Amb les conclusions que hagueu obtingut de les qüestions anteriors, redacteu un **INFORME sobre les repercussions socioculturals, econòmiques i demogràfiques de la immigració a Espanya.**

PROVES D'ACCÉS A FACULTATS, ESCOLES TÈCNiques SUPERIORS I COL·LEGIS UNIVERSITARIS
PRUEBAS DE ACCESO A FACULTADES, ESCUELAS TÉCNICAS SUPERIORES Y COLEGIOS UNIVERSITARIOS

CONVOCATÒRIA DE SETEMBRE 2007

CONVOCATORIA DE SEPTIEMBRE 2007

MODALITAT DEL BATXILLERAT (LOGSE):
MODALIDAD DEL BACHILLERATO (LOGSE):

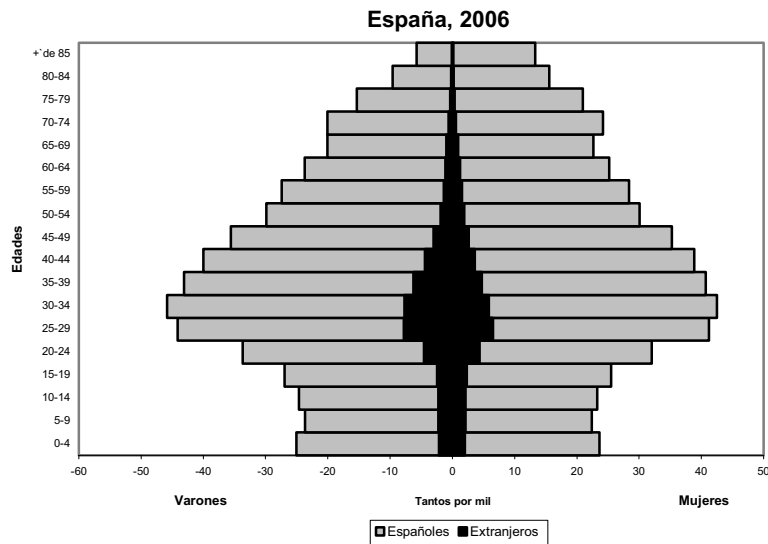
d'Humanitats i Ciències Socials
de Humanidades y Ciencias Sociales

IMPORTANT / IMPORTANTE

2n Exercici 2º Ejercicio	GEOGRAFIA GEOGRAFÍA	Obligatòria en la via de Ciències Socials i optativa en la d'Humanitats Obligatoria en la vía de Ciencias Sociales y optativa en la de Humanidades	90 minuts 90 minutos
------------------------------------	-------------------------------	--	--------------------------------

Barem: / Baremo: _____

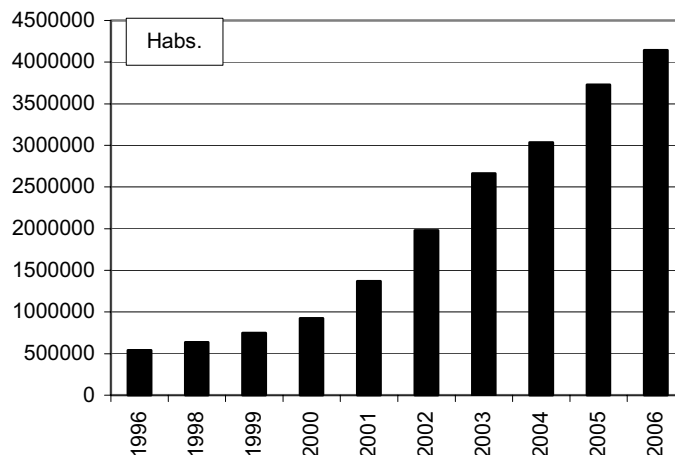
DOCUMENT 1 / DOCUMENTO 1



Font/Fuente: INE, *Padrón de Habitantes*, 2006. Reelaboración propia.

DOCUMENT 2 / DOCUMENTO 2

Evolució de la població estrangera a Espanya/Evolución de la población extranjera en España

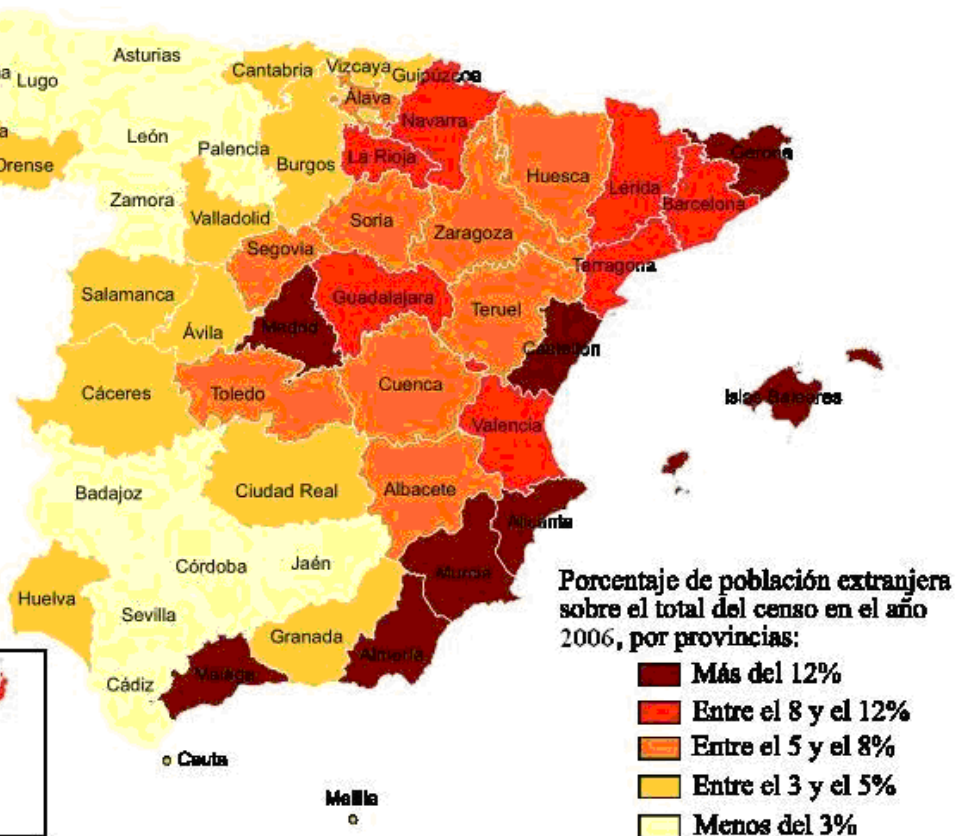


Font/Fuente: INE.

PROVES D'ACCÉS A FACULTATS, ESCOLES TÈCNIQUES SUPERIORS I COL·LEGIS UNIVERSITARIS
PRUEBAS DE ACCESO A FACULTADES, ESCUELAS TÉCNICAS SUPERIORES Y COLEGIOS UNIVERSITARIOS
CONVOCATÒRIA DE SETEMBRE 2007
CONVOCATORIA DE SEPTIEMBRE 2007
MODALITAT DEL BATXILLERAT (LOGSE): d'Humanitats i Ciències Socials
MODALIDAD DEL BACHILLERATO (LOGSE): de Humanidades y Ciencias Sociales
IMPORTANT / IMPORTANTE

2n Exercici 2º Ejercicio	GEOGRAFIA GEOGRAFÍA	Obligatòria en la via de Ciències Socials i optativa en la d'Humanitats Obligatoria en la vía de Ciencias Sociales y optativa en la de Humanidades	90 minuts 90 minutos
------------------------------------	-------------------------------	--	--------------------------------

Barem: / Baremo: _____

DOCUMENT 3 / DOCUMENTO 3
LA POBLACIÓ EXTRANJERA EN ESPAÑA
Espanya
Población censada con nacionalidad extranjera en el año 2006: 3.730.610
Media nacional: 8,46%
Provincia con mayor porcentaje:
Alicante (18,57%)
Provincia con menor porcentaje:
Jaén (1,72%)


Font/Fuente: INE.

PROVES D'ACCÉS A FACULTATS, ESCOLES TÈCNiques SUPERIORS I COL·LEGIS UNIVERSITARIS
PRUEBAS DE ACCESO A FACULTADES, ESCUELAS TÉCNICAS SUPERIORES Y COLEGIOS UNIVERSITARIOS
CONVOCATÒRIA DE SETEMBRE 2007
CONVOCATORIA DE SEPTIEMBRE 2007
MODALITAT DEL BATXILLERAT (LOGSE):
MODALIDAD DEL BACHILLERATO (LOGSE):
d'Humanitats i Ciències Socials
de Humanidades y Ciencias Sociales
IMPORTANT / IMPORTANTE

2n Exercici 2º Ejercicio	GEOGRAFIA GEOGRAFÍA	Obligatòria en la via de Ciències Socials i optativa en la d'Humanitats Obligatoria en la vía de Ciencias Sociales y optativa en la de Humanidades	90 minuts 90 minutos
------------------------------------	-------------------------------	--	--------------------------------

Barem: / Baremo: _____

Pregunta 1ª-2 punts; pregunta 2ª-2'5 punts; pregunta 3ª-2'5 punts; pregunta 4ª-3 punts
Pregunta 1ª-2 puntos; pregunta 2ª-2'5 puntos; pregunta 3ª-2'5 puntos; pregunta 4ª-3 puntos
EJERCICIO 2

1. Sobre el mapa anexo y con los datos del documento 1, construya un mapa de coropletas.
2. Indique y explique las modalidades del comercio interior.
3. Apoyándose en el documento 2, señale los principales rasgos de la balanza comercial española y su evolución, e indique qué sectores influyen decisivamente en su comportamiento.
4. A partir de los documentos anteriores y sus respuestas, elabore un **INFORME sobre el actual papel de España en Europa y en el mundo.**

EXERCICI 2

1. Sobre el mapa annex i amb les dades del document 1, construïu un mapa de coropletes.
2. Indique i expliqueu les modalitats del comerç interior.
3. Basant-vos en el document 2, assenyalau els principals trets de la balança comercial espanyola i la seua evolució, i indiqueu quins sectors influeixen decisivament en el seu comportament.
4. A partir dels documents anteriors i les vostres respostes, elaboreu un **INFORME sobre l'actual paper d'Espanya a Europa i al món.**

PROVES D'ACCÉS A FACULTATS, ESCOLES TÈCNiques SUPERIORS I COL·LEGIS UNIVERSITARIS
PRUEBAS DE ACCESO A FACULTADES, ESCUELAS TÉCNICAS SUPERIORES Y COLEGIOS UNIVERSITARIOS
CONVOCATÒRIA DE SETEMBRE 2007
CONVOCATORIA DE SEPTIEMBRE 2007
MODALITAT DEL BATXILLERAT (LOGSE): d'Humanitats i Ciències Socials
MODALIDAD DEL BACHILLERATO (LOGSE): de Humanidades y Ciencias Sociales
IMPORTANT / IMPORTANTE

2n Exercici 2º Ejercicio	GEOGRAFIA GEOGRAFÍA	Obligatòria en la via de Ciències Socials i optativa en la d'Humanitats Obligatoria en la vía de Ciencias Sociales y optativa en la de Humanidades	90 minuts 90 minutos
------------------------------------	-------------------------------	--	--------------------------------

Barem: / Baremo: _____

DOCUMENT 1 / DOCUMENTO 1

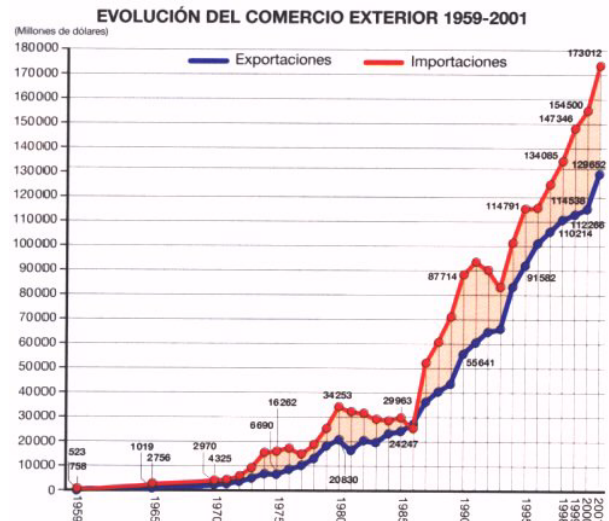
 Percentatge del personal ocupat en el subsector comercial respecte del total del sector/*Porcentaje del Personal ocupado en el subsector comercial respecto del total del Sector (2004)*

	% comercio
Andalucía, Ceuta y Melilla	42.74
Aragón	43.27
Asturias (Principado de)	42.03
Balears (Illes)	32.78
Canaries	38.55
Cantabria	38.90
Castilla y León	41.17
Castilla-La Mancha	44.94
Cataluña	38.21
Comunidad Valenciana	46.25
Extremadura	50.73
Galicia	43.14
Madrid (Comunidad de)	32.01
Murcia (Región de)	48.53
Navarra (Comunidad Foral de)	39.26
País Vasco	37.01
Rioja (La)	44.09
TOTAL	39.60

Font/Fuente: Encuesta Anual de Comercio y Encuesta Anual de Servicios, 2004 (INE).

DOCUMENT 2 / DOCUMENTO 2

COMERCIO EXTERIOR POR SECTORES 2001 (MILLONES DE EUROS)			
	Exportación	Importación	Saldo
Alimentos	18 733,9	17 047,2	1 686,7
Productos energéticos	4 213,6	19 171,6	-14 958
Materias primas	2 480,9	5 618,5	-3 137,6
Semimanufacturas	28 445,0	35 692,4	-7 247,4
Bienes de equipo	26 972,4	43 499,9	-16 527,5
Sector automóvil	27 739,7	27 570,3	169,4
Bienes de consumo duradero	4 561,9	4 822,1	-260,2
Manufacturas de consumo	13 812,4	16 620,4	-2 808,0
Otras mercancías	1 711,8	1 648,1	-63,7
Total	128 671,9	171 690,7	-43 018,8

 Font/Fuente: Dirección General de Aduanas. En Muñoz Delgado M^a C. (2001): Geografía 2º Bachillerato, Anaya, Madrid.

 Font/Fuente: Dirección General de Aduanas y Banco de España. En Muñoz Delgado M^a C. (2001): Geografía 2º Bachillerato, Anaya, Madrid.

PROVES D'ACCÉS A FACULTATS, ESCOLES TÈCNIQUES SUPERIORS I COL·LEGIS UNIVERSITARIS
PRUEBAS DE ACCESO A FACULTADES, ESCUELAS TÉCNICAS SUPERIORES Y COLEGIOS UNIVERSITARIOS

CONVOCATÒRIA DE **SETEMBRE 2007**

CONVOCATORIA DE **SEPTIEMBRE 2007**

MODALITAT DEL BATXILLERAT (LOGSE):
MODALIDAD DEL BACHILLERATO (LOGSE):

d'Humanitats i Ciències Socials
de Humanidades y Ciencias Sociales

IMPORTANT / IMPORTANTE

2n Exercici 2º Ejercicio	GEOGRAFIA GEOGRAFÍA	Obligatòria en la via de Ciències Socials i optativa en la d'Humanitats Obligatoria en la vía de Ciencias Sociales y optativa en la de Humanidades	90 minuts 90 minutos
Barem: / Baremo:		Etiqueta de l'estudiant / Etiqueta del estudiante	

MAPA ANNEX/ MAPA ANEXO

